

دخترم متن زیر را با دقت بخوان و بعد هر جا که لازم است از علائم نگارشی مناسب استفاده کرده و بنویسید .

مردی که کتابش را چهل بار خواند

پوعلی سینا دانشمند معروف ایرانی پیش از هزار سال قبل در یکی از روستاهای پخارا به دنیا آمد نام اصلی او حسین بود این سینا در کودکی علوم دینی و ادبی را یاد گرفت

او را پیشتر به عنوان پزشک می شناسند اما او زمین شناس دارو ساز و دارو شناس ریاضی دان فیزیک دان شیمی دان روان شناس موسیقی دان و فیلسوف نیز بود

او حتی رصد خانه ای در اصفهان هم تأسیس کرد و در آن جا به ستاره شناسی مشغول بود

پوعلی تا پایان عمرش حدود ۱۳۰ کتاب نوشت کتاب های او تا دو بیست سیصد سال پیش در دانشگاه های معتبر جهان تدریس می شد

در اروپا او به پادشاه پزشکان معروف بود مقبره ی زیبای او در شهر همدان است

هر کلمه را با نشانه ی مناسب کامل کرده و سپس بخوانید .

ل.....ظه ای	آ...رده	طبی...ت	...روغ
ج...م نوا...	د... نشین	آ...وش	ح...ی...ت

از روی شعر زیر دو بار با خط خوش بنویسید .

درخت تو گر بار دانش بگیرد  
به زیر آورد چرخ نیلوفری را

مانند نمونه به آخر هر کلمه " مند " اضافه کنید و معنی آن را بنویسید .

دانش آموز توانمند یعنی دانش آموزی که توانایی دارد .

..... مند یعنی :

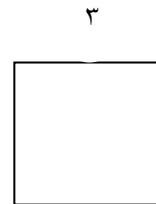
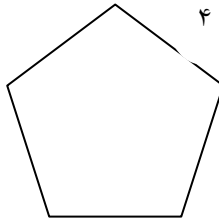
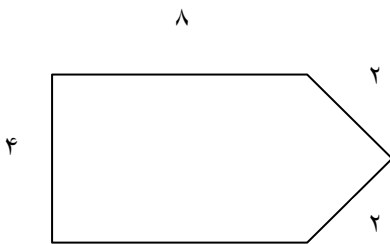
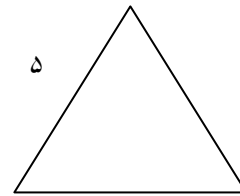
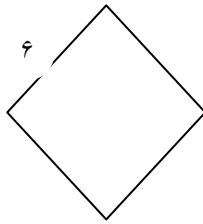
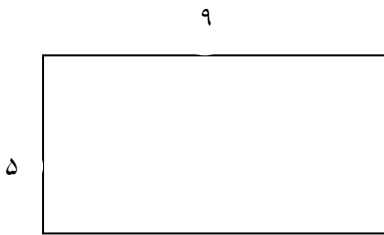
..... مند یعنی :

۱- نرگس، زهدا و مهتاب ۱۸ سیب را به طور مساوی بین خود تقسیم کردند. نرگس ۳ سیب از سیب هایش را خورد، چند سیب برای او باقی مانده است؟

۲- پیوست دقیقه‌ی دیگر ساعت ۱۵:۳۰ می‌شود، الان ساعت چند است؟

۳- با خط کش خود یک پاره خط و یک نیم خط رسم کنید و بنویسید چه تفاوتی با هم دارند؟

۴- محیط شکل‌های زیر را به دست آورید.



۵- رقم ۳ در هر کدام از عدد‌های زیر چه مرتبه‌ای دارد؟

۱۳۰۹

۲۰۵۳

۸۳۵۰

۳۷۹۰

۶- حاصل عبارت‌های زیر را به دست آورید.

$$(۸۲ - ۱۰) \div (۳۶ \div ۴) = \dots \div \dots = \dots$$

$$(۴۸ \div ۸) \times (۴۵ \div ۹) = \dots \times \dots = \dots$$

😊	😊	😊				۱
					😊	۲
😊	😊					۳
					😊	۴
				😊	😊	۵
😊	😊					۶

۱- مخالف زیبا

۲- هم معنی شایستگی

۳- چهره را زیبا می کند.


۴- برای تصمیم گیری در کارها با هم ..... می کنیم

۵- به خواهر مادر می گویند.

۶- دشمن موش

با حروف داده شده ۴ کلمه ساخته و در داخل ابرها بنویسید.

(ش - پ - م - ن - ز - ا - د - ر)



۱ - یک قاشق فلزی را بردارید و به داخل آن نگاه کنید. تصویر در آن چگونه است؟

۲ - روی کلمه ی نادرست خط بکشید.

☼ وقتی ابرها به اندازه ی کافی ( سرد - گرم ) شوند ، از آن ها باران یا برف می بارد .

☼ مقدار آب های ( شیبین - شور ) روی کره ی زمین پیش تر است .

☼ پیش تر کره ی زمین را ( آب ها - خشکی ها ) فرا گرفته است .

☼ آینه بغل اتومبیل ، یک آینه ی ( تخت - پرآمده ) است .

۳ - جمله های زیر را با نوشتن کلمه ی مناسب کامل کنید . (منظور همون آینه ای که در کلاس ساختیم است .)

☺ با ورقه نازک آلومینیوم می توان آینه ساخت ؛ چون نور را به صورت مستقیم ..... می کند .

☺ وقتی بادکنک پشت آینه ی ساخته شده را به طرف خودمان می کشیم ، سطح آینه ..... می شود .

۴ - زمانی که بادکنک را با دست فشار می دهیم ، اثر نیرو بر روی بادکنک به چه شکلی است ؟

( الف ) باعث حرکت بادکنک می شود . ( ب ) باعث تغییر جهت می شود .

( ج ) باعث توقف حرکت می شود . ( د ) باعث تغییر شکل می شود .

۵ - جمله های درست را با علامت ✓ و جمله های نادرست را با علامت × مشخص کنید .

☼ ما می توانیم نیرو ها را در جهت های مختلف به جسم وارد کنیم .

☼ در انجام همه ی کارها و بازی ها نیرو به کار می رود .

☼ در تاب بازی ، نیرو به صورت کشیدن است .

☼ در مسواک زدن ، نیرو به صورت کشیدن و هل دادن است .

سلامت ، موفق و شاد باشید .