


۱. دخترم به کمک رنگ کردن خانه ها، داخل گل های خالی عدد مناسب بنویس.



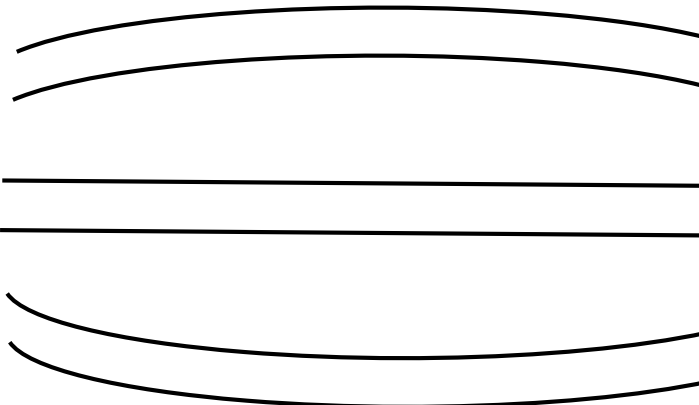
□ □ □ □ □ □ □ □




□ □ □ □ □ □ □ □

□ □ □ □ □ □ □ □


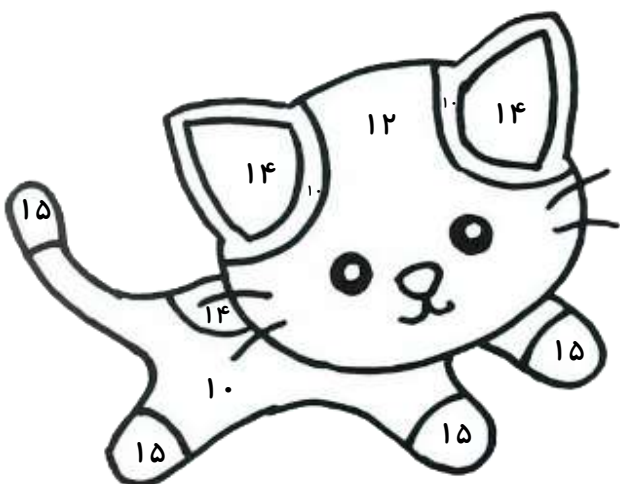
۲. دخترم در شکل زیر راه هایی که مربوط به هر دسته هستند را با توجه به رنگ دسته ی مورد نظر رنگ کن.

ده تایی	یکی
۵	۲
ده تایی	یکی
۲	۵
ده تایی	یکی
۳	۹





- ۲ تا بسته ی ده تایی و ۵ تا یکی 
- ۵ تا بسته ی ده تایی و ۲ تا یکی 
- ۳ تا بسته ی ده تایی و ۹ تا یکی 

۳. دختر گلم با توجه به حاصل جمع، هر قسمت را رنگ کن.




۴. دختر گلم در جاهای خالی عدد مناسب بنویس.


یکی ده تایی و یعنی ۳۸ 

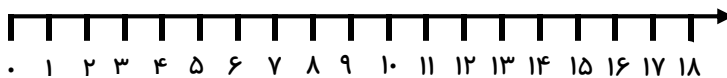
یکی ده تایی و یعنی ۱۵ 


یکی ده تایی و یعنی ۲۹ 

یکی ده تایی و یعنی ۲۵ 


۵. دختر گلم جمع و تفریق های زیر را با کمک محور انجام بده. (عدد های محور را مانند نمونه خودت یکی یکی اضافه کن و بنویس)

$4 + 5 + 6 =$ 




$3 + 7 + 4 =$ 




$1 + 3 + 9 =$ 





$13 - 6 =$ 



$17 - 6 =$ 





۶. دختر گلم جاهای خالی را با توجه به شکل پر کن سپس جواب ها را با هم مقایسه کن. (دور علامت مناسب خط بکش)



 

$\dots - \dots = \dots$

$>$
 $<$



 

$\dots - \dots = \dots$

$\dots + \dots = \dots$

$>$
 $<$

$\dots + \dots = \dots$

زنگ تفریح



***دختر هنرمندم با استفاده از چسب و چوب کبریت یک نقاشی

زیبا طراحی و آن را رنگ آمیزی کن

